

Partie A1 A fiche 1 : Une personne doit aider l'enfant à lire les consignes.

Les manipulations des jeux des allumettes et du boulier, du chapitre 1

'Les nombres' du livre 'les maths apprivoisées 1' doivent déjà avoir été faites.

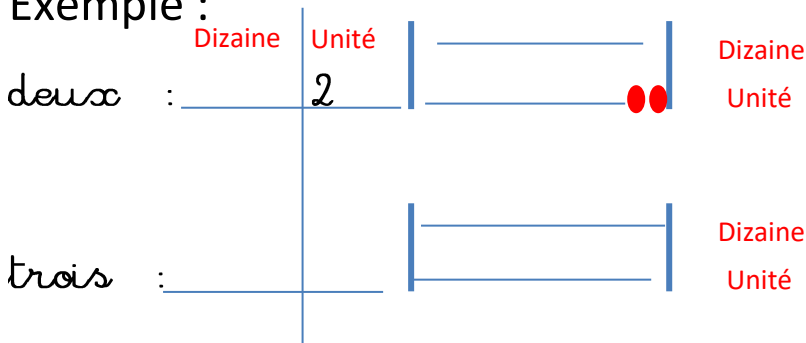
Les manipulations des parties : 'Les lettres, les sons' et 'Découverte de la lecture' du livre 'les bases du français' doivent déjà avoir été travaillées.

1) Repasse sur les lettres et lis ce qui est écrit :

Le le La la

3) Peux-tu écrire les nombres en chiffres et les représenter sur le boulier en ne coloriant que des boules que tu vas compter ?

Exemple :



Les maths apprivoisées 1 p38-40

Les bases du français p118-122

1) Souligne en **rouge** les mots dans lesquels tu entends le son [s]

et en **bleu** ceux où tu entends le son [z] : Les bases du français p90


coussin cousin classe.....

5) Tu peux écrire les nombres en lettres ou les nombres en chiffres : Les bases du français p118-122

zéro : _____ trois : _____ cinq : _____
un : _____ quatre : _____ deux : _____

5) Peux-tu compter le nombre de fleurs que tu vois, sans oublier qu'il est important de faire des paquets de dix que tu pourras entourer :

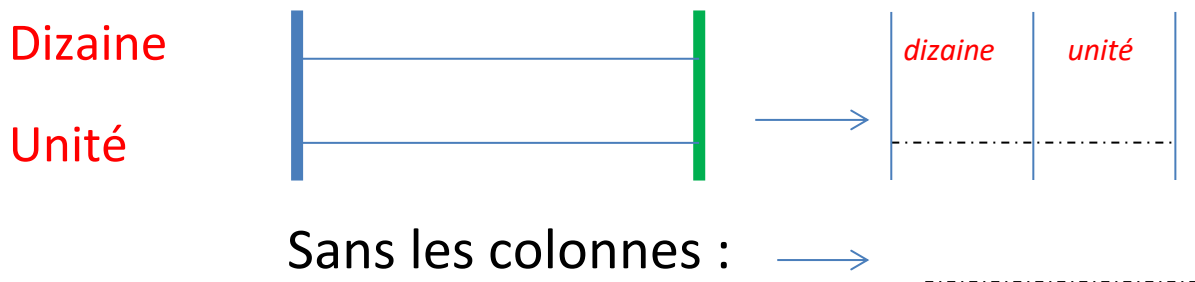
Les maths apprivoisées 1 p36



Positionne le bon nombre de boules sur le boulier puis inscris ton résultat dans le tableau.

Les maths apprivoisées 1 p38-40

Ensuite, écris le nombre que tu as trouvé :



4) Peux-tu écrire les nombres en lettres et sur chaque ligne surligner les lettres qui sont identiques ?

Les bases du français p118-122

2 : _____

12 : _____

..... **Bonus pour ceux qui veulent s'entraîner à écrire et qui ont du mal pour écrire :**

A A A A A A A A A A A A

a a a a a a a a a a a a a a a a